

ΤΑΣΗ ΑΣΤΕΡΑΤΗ






**ΥΛΙΚΟ
ΑΠΑΣΧΟΛΗΣΗΣ**

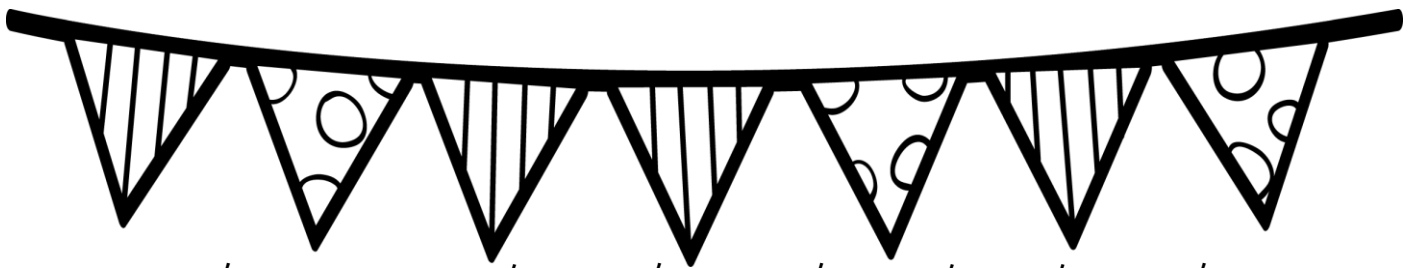
ΜΑΘΗΜΑΤΙΚΑ

Διαχείριση αριθμών 0-100

Ποιος λείπει από τη σειρά;

Συμπλήρωσε τους αριθμούς που λείπουν για να είναι σωστή η σειρά των αριθμών σε κάθε κολλοκύθα.





Συμπλήρωσε τους αριθμούς που λείπουν σε κάθε τριφύλλι, ώστε να δίνουν το άθροισμα που ζητά η μέλισσα..

Μέλισσα: Όλα είναι 20

10	2	8
----	---	---

Μέλισσα: Όλα είναι 45

5	21	15
---	----	----

Μέλισσα: Όλα είναι 17

10	1	8
----	---	---

Μέλισσα: Όλα είναι 62

40	2	15
----	---	----

Μέλισσα: Όλα είναι 50

10	6	25
----	---	----

ΒΟΗΤΕΣ ΣΤΗ ΛΙΜΝΗ

Βοήθησε το βάτραχο να πηδήξει στα σωστά βότσαλα για να φτάσει στο βράχο.
Χρωμάτισε τα βότσαλα και δείξε με βελάκι το δρόμο που ακολουθεί, όπως στο παράδειγμα.

5-5

2 10 15 20 24 29 37 43 50
5 13 17 21 23 25 26 28 30 35 38 40 41 45

2-2

2 4 5 8 10 13 16 17 21 22
1 3 6 7 9 11 12 14 15 18 19

3-3

2 9 12 16 18 23 29 33 36
3 6 13 15 17 21 22 24 27 28 30 31 32 34






Φτιάχνουμε ποπ κορν!

Από το κουτί έπεσαν μερικά ποπ κορν! Μάζεψέ τα γράφοντας τον αριθμό που πρέπει.

Κατεβαίνεις 10-10 από τον αριθμό που γράφει στο κουτί.













Φάε μόνο τα ποπ κορν που έχουν 6 στις Μονάδες. Βρες τα και χρωμάτισέ τα κίτρινα.



Μαζεύουμε μήλα

Μαζεύω τα μήλα στο καλάθι γράφοντας πάνω τους τον αριθμό που πρέπει.

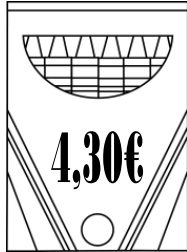
Ανεβαίνω 10-10.




Ψωνίζουμε!

Αγόρασε τα παρακάτω προϊόντα επιλέγοντας τα σωστά νομίσματα από το πορτοφόλι.

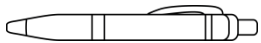

Βάλε **V** στα νομίσματα που θα χρειαστείς κάθε φορά.



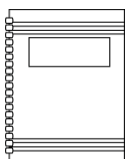

127,90€



84,10€



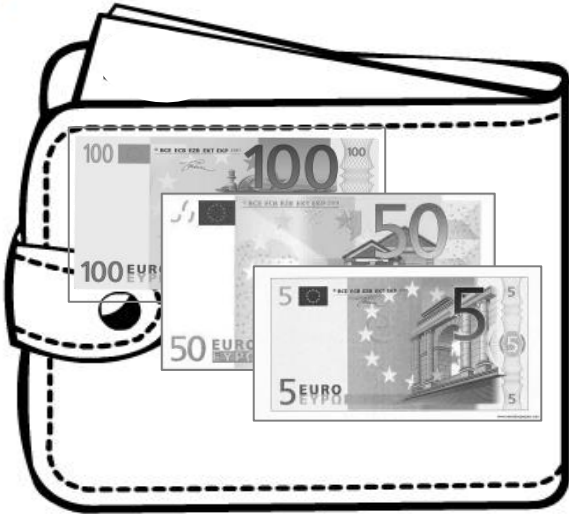
1,80€



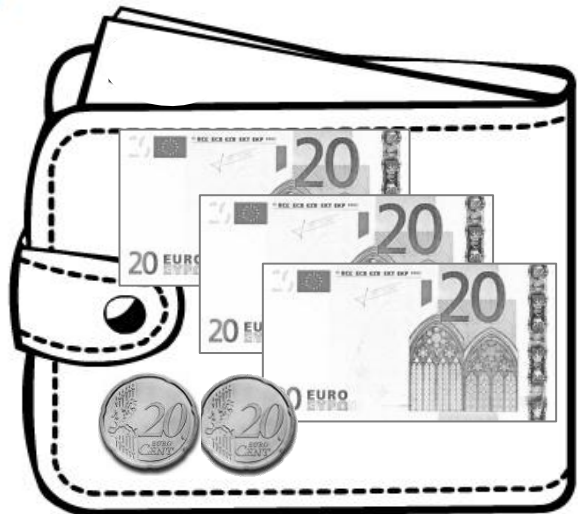
4,60€



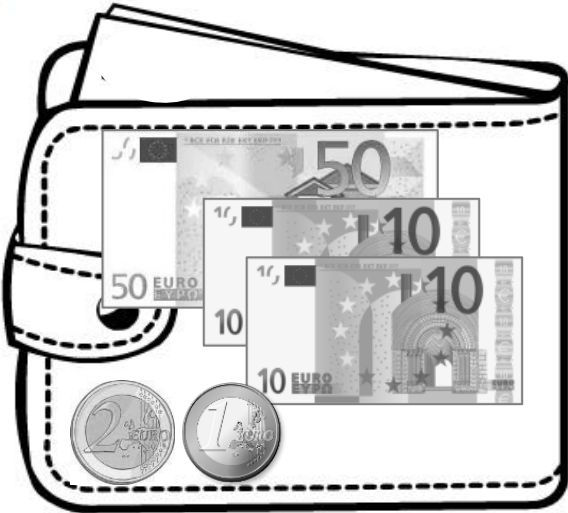
Πόσα έχω;




Έχω _____



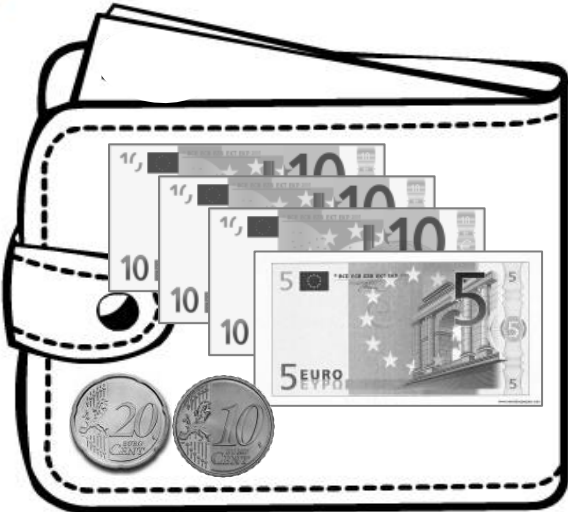
Έχω _____



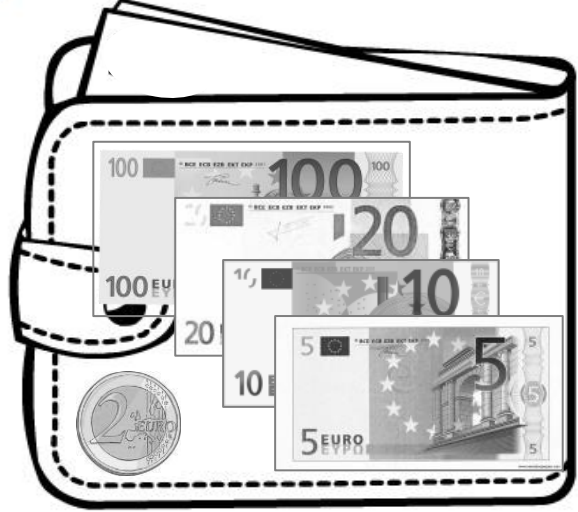
Έχω _____



Έχω _____



Έχω _____














Έχω _____

Καραμέλες!

Ανέβα και κατέβα μια δεκάδα!








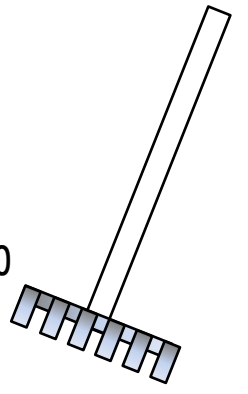
Στη μέση σου δίνω έναν αριθμό. Εσύ πρέπει να βρεις τον αριθμό που είναι κατά μια Δεκάδα μεγαλύτερος και να τον γράψεις από πάνω, ενώ αυτόν που είναι μια Δεκάδα μικρότερος θα τον γράψεις από κάτω.



Τώρα χρωμάτισε
τις καραμέλες που
έχουν το 5 στις
μονάδες.

Καθαρίζοντας τον κήπο!

Μάζεψε τα φύλλα από τον κήπο βάζοντάς τα στη σειρά από το μικρότερο στο μεγαλύτερο.

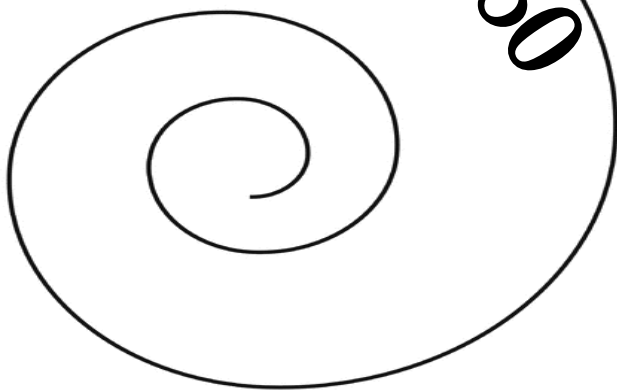


Δες ποιοι βγήσαν με τη βροχή!

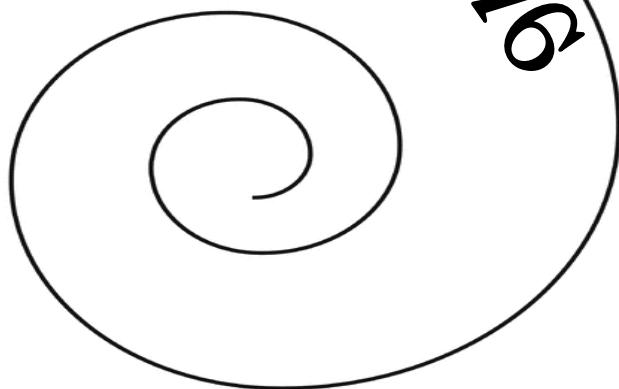


Ακολουθήσε τα σαλιγκάρια! Βρες τον κανόνα και συνέχισε τη σειρά των αριθμών.
Βρες τους επόμενους 10 αριθμούς.

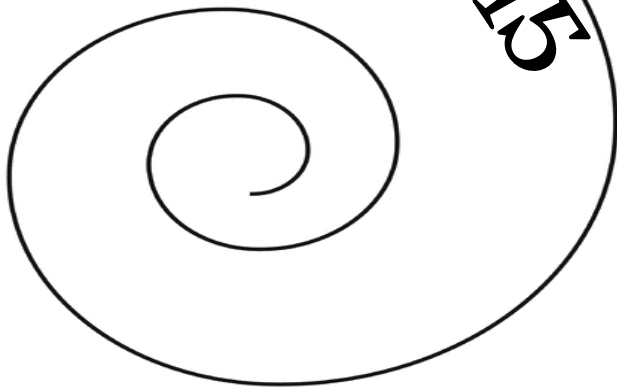
48 49 50



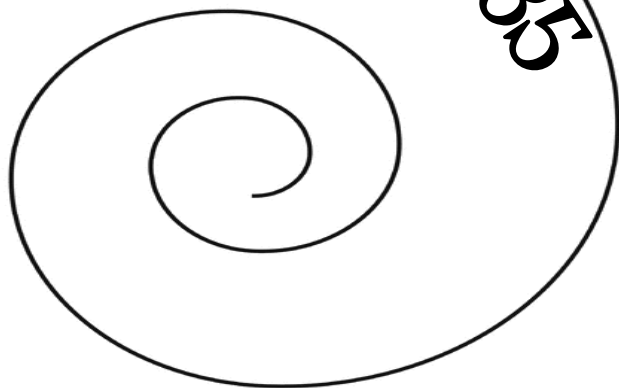
72 74 76



7 11 15




95 90 85




Μαζεύοντας βελανίδια...


Ο αέρας έριξε κάτω τα βελανίδια.
Βοήθησε τον σκίουρο να τα μαζέψει ακολουθώντας τις οδηγίες.




Μάζεψε τα βελανίδια κυκλώνοντας όσα έχουν 8 στις Μονάδες.




Μάζεψε τα βελανίδια κυκλώνοντας όσα έχουν 4 στις Δεκάδες.



Μάζεψε τα βελανίδια κυκλώνοντας όσα έχουν 1 στις Μονάδες.



Μάζεψε τα βελανίδια κυκλώνοντας όσα έχουν 7 στις Δεκάδες.



Μάζεψε τα βελανίδια κυκλώνοντας όσα έχουν 0 στις Μονάδες.



Special thanks to these awesome artists:

